
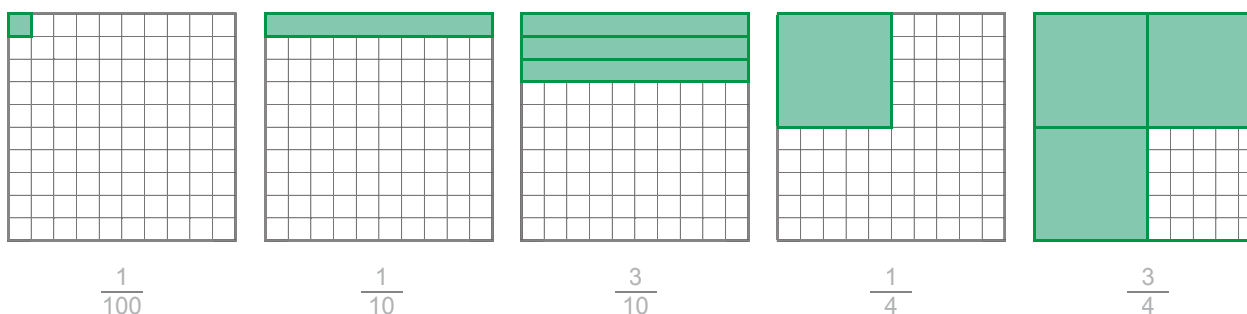


1. Färbe den Anteil ein.

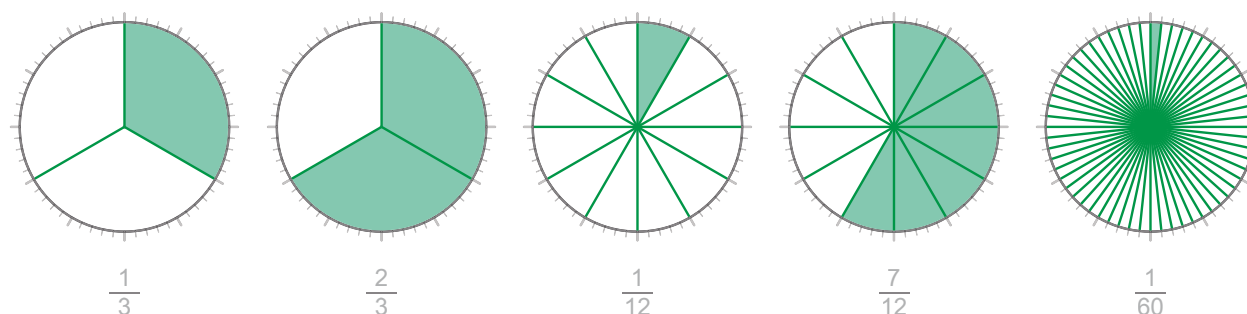
a Färbe den Anteil im Punktefeld ein.



b Färbe den Anteil im Hunderter-Häuschenfeld ein.



c Färbe den Anteil im Kreis ein.




2. Bestimme den Anteil.

- a $\frac{1}{2}$ von 20 = **10**
 $\frac{1}{4}$ von 20 = **5**
 $\frac{1}{5}$ von 20 = **4**
 $\frac{1}{20}$ von 20 = **1**
 $\frac{3}{4}$ von 20 = **15**
 $\frac{4}{5}$ von 20 = **16**
 $\frac{7}{20}$ von 20 = **7**

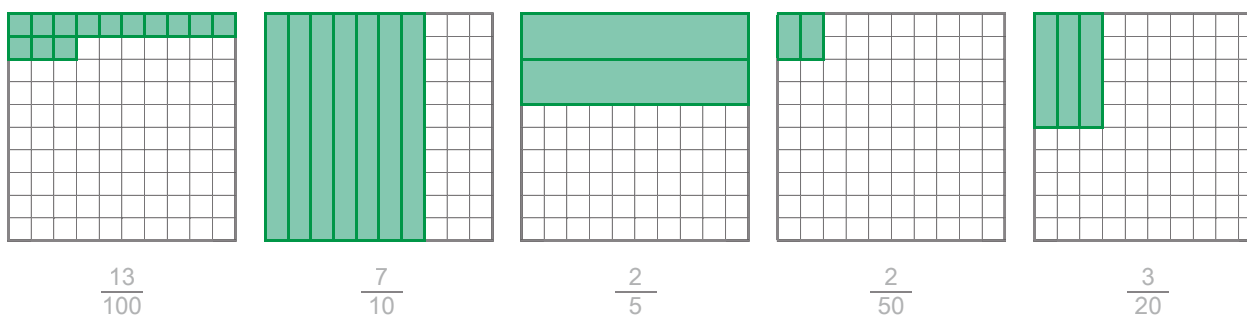
- b $\frac{1}{10}$ von 100 = **10**
 $\frac{1}{20}$ von 100 = **5**
 $\frac{1}{50}$ von 100 = **2**
 $\frac{9}{10}$ von 100 = **90**
 $\frac{2}{20}$ von 100 = **10**
 $\frac{3}{50}$ von 100 = **6**
 $\frac{1}{5}$ von 100 = **20**

1. Färbe den Anteil ein.

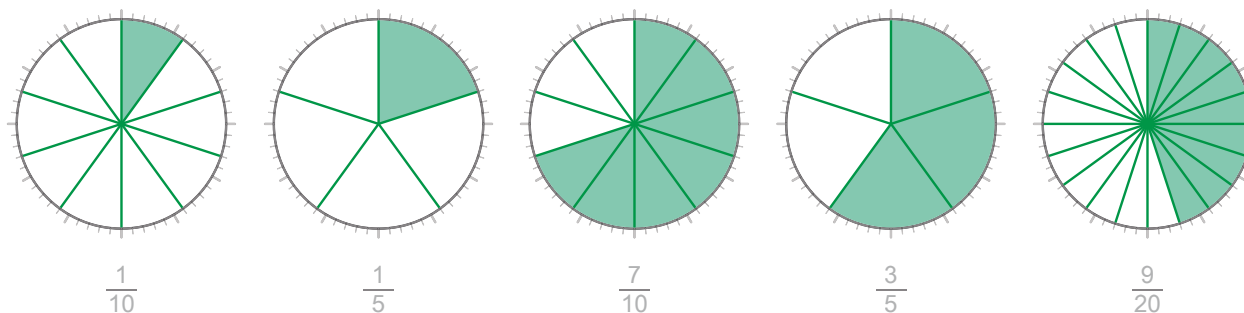
a Färbe den Anteil im Punktefeld ein.



b Färbe den Anteil im Hunderter-Häuschenfeld ein.



c Färbe den Anteil im Kreis ein.



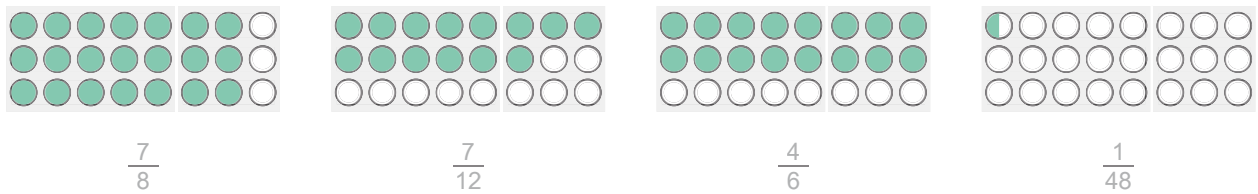
2. Bestimme den Anteil.

a $\frac{1}{10}$ von 30 = **3**
 $\frac{1}{5}$ von 30 = **6**
 $\frac{1}{6}$ von 30 = **5**
 $\frac{3}{10}$ von 30 = **9**
 $\frac{4}{5}$ von 30 = **24**
 $\frac{5}{6}$ von 30 = **25**
 $\frac{2}{15}$ von 30 = **4**

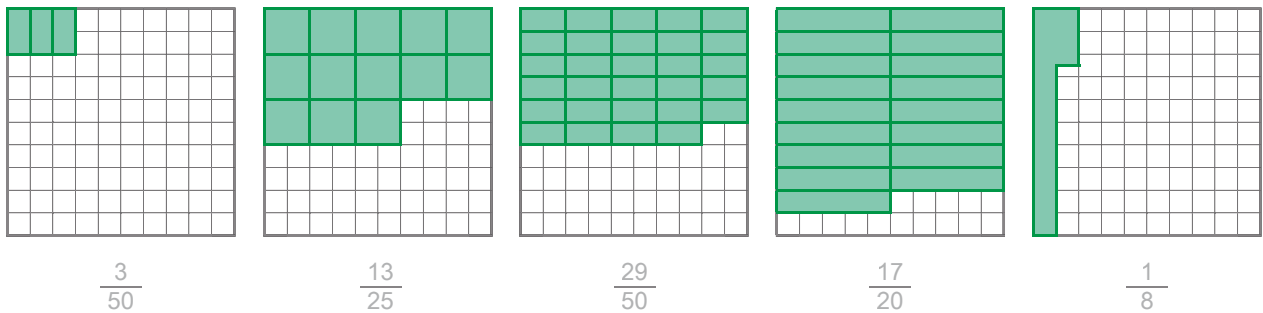
b $\frac{3}{10}$ von 100 = **30**
 $\frac{7}{10}$ von 100 = **70**
 $\frac{7}{20}$ von 100 = **35**
 $\frac{3}{5}$ von 100 = **60**
 $\frac{3}{25}$ von 100 = **12**
 $\frac{3}{50}$ von 100 = **6**
 $\frac{19}{50}$ von 100 = **38**

1. Färbe den Anteil ein.

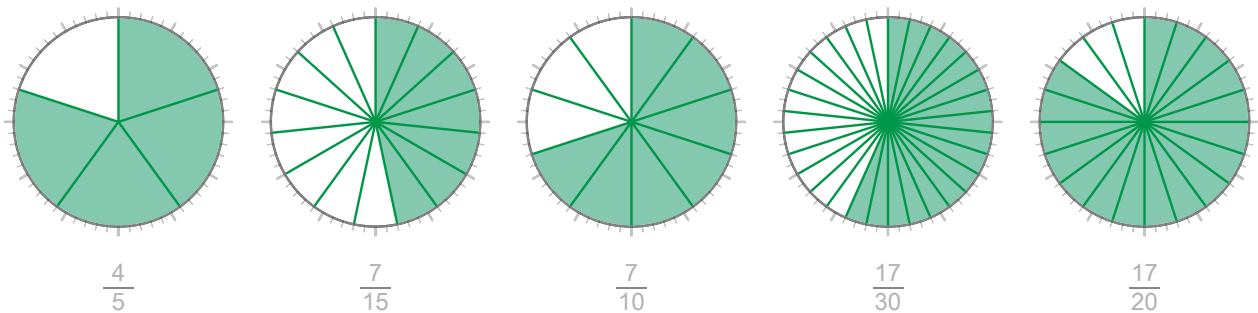
a Färbe den Anteil im Punktefeld ein.



b Färbe den Anteil im Hunderter-Häuschenfeld ein.



c Färbe den Anteil im Kreis ein.



2. Bestimme den Anteil.

a $\frac{2}{3}$ von 36 = **24**
 $\frac{2}{9}$ von 36 = **8**
 $\frac{5}{6}$ von 36 = **30**
 $\frac{7}{12}$ von 36 = **21**
 $\frac{3}{8}$ von 48 = **18**
 $\frac{3}{8}$ von 64 = **24**
 $\frac{3}{8}$ von 56 = **21**

b $\frac{3}{10}$ von 50 = **15**
 $\frac{4}{5}$ von 50 = **40**
 $\frac{3}{25}$ von 50 = **6**
 $\frac{13}{25}$ von 50 = **26**
 $\frac{13}{20}$ von 200 = **130**
 $\frac{13}{20}$ von 500 = **325**
 $\frac{13}{20}$ von 900 = **585**